

SIMULAZIONE DELLA PROVA D'ESAME DI LICEO SCIENTIFICO CORSO SPERIMENTALE P.N.I.

Risolvi uno dei due problemi e 5 dei 10 quesiti del questionario.

■ PROBLEMA 1

In un piano è data la circonferenza λ di centro O e raggio $OA = r$; conduci per A la retta a tangente a λ e una semiretta di origine O che intersechi la tangente nel punto B e la circonferenza in C . La retta passante per C e parallela ad a incontra in D il segmento OA e in M la parallela ad OA passante per B .

1. Dimostra che valgono le proporzioni: $\overline{OD} : \overline{DC} = \overline{OC} : \overline{DM}$, $\overline{OA} : \overline{OD} = \overline{BC} : \overline{DA}$.
2. Dimostra che il luogo geometrico Γ descritto da M al variare di B è simmetrico rispetto alla retta OA .
3. Scelto il riferimento cartesiano ortogonale con origine nel centro della circonferenza e l'asse y passante per A orientato come la semiretta OA , verifica che l'equazione della curva Γ descritta da M al variare di

$$B \text{ è: } f(x) = \frac{r^2}{\sqrt{x^2 + r^2}}.$$

4. Traccia il grafico di Γ .
5. Posto $r = 2$ considera il solido Ω avente
 - per base la regione di piano delimitata dal semiasse positivo delle x , dall'asse y e da Γ ;
 - come sezioni ortogonali al piano (x, y) i triangoli equilateri di lato $l = f(x)$.

Verifica che il volume di Ω è: $\pi\sqrt{3}$.

■ PROBLEMA 2

Considera le funzioni $f(x) = x + (1+x)e^{-2x}$ e $g(x) = (1+x)e^{-2x}$, $x \in \mathbb{R}$.

1. Verifica che f ha un solo asintoto e determina il suo punto d'intersezione con la funzione.
2. Disegna il grafico sommario di f ; dimostra che ha un'unica intersezione con l'asse delle ascisse e determina, con tre iterazioni di un metodo iterativo a piacere, un valore approssimato.
3. Calcola le aree:
 - S_1 della regione piana situata nel semipiano $x \geq -1$ e delimitata da f e dal suo asintoto;
 - S_2 della regione piana situata nel semipiano $x \geq -1$ e delimitata da g e dall'asse x .
4. Determina la traslazione del piano nella quale la funzione g ha per immagine la funzione $g_1(x) = \frac{e^2 x}{e^{2x}}$.
5. Calcola il volume del solido generato dalla figura piana finita delimitata da g_1 e dalla retta $y = x$ in una rotazione completa attorno all'asse delle ascisse.

■ QUESTIONARIO

- 1 Lo scopone scientifico si gioca in quattro con un mazzo da 40 carte distribuendone 10 a ciascuno. Qual è il numero delle possibili distribuzioni se i giocatori si dispongono in un ordine prefissato? Se si tiene conto anche di tutti i modi in cui si possono disporre i giocatori qual è il numero delle distribuzioni?

2 Nel decadimento radioattivo la probabilità che un radionuclide decada nel generico intervallo di tempo $[0, t[$ è espressa dalla relazione $p(0; t) = \int_0^t \lambda e^{-\lambda z} dz$. Nel decadimento beta del ^{32}P (fosforo 32) si osserva che, dopo 14,3 giorni, sono ancora in vita il 50% dei nuclei.

Dimostra che $\lambda = \frac{\ln 2}{14,3}$ e calcola la probabilità che un nucleo abbia una durata di vita superiore a 20 giorni.

3 Per quali valori del parametro reale k l'equazione $|\ln x - 1| + |e^x + k| = 0$ ammette soluzioni reali?

- a) Per nessun valore di k .
- b) Soltanto per $k = -e$.
- c) Soltanto per $k = -e^2$.
- d) Per $k < 0$.
- e) Soltanto per $k = -e^e$.

Soltanto una delle alternative proposte è giusta.

Rispondi dando adeguata motivazione.

4 Discuti il seguente sistema parametrico.

$$\begin{cases} x - \lambda y - z = \lambda - 1 \\ 2x + (\lambda + 1)y + z = 0 \\ -\lambda x + y + \lambda z = 1 - \lambda \end{cases}, \quad \lambda \in \mathbb{R}.$$

5 Sia data la funzione

$$f: A \rightarrow \mathbb{R} \text{ (con } A \text{ sottoinsieme proprio di } \mathbb{R} \text{) derivabile } \forall x \in A.$$

Discuti la verità della seguente proposizione dando esauriente motivazione e riferendo almeno un esempio:

«condizione necessaria e sufficiente affinché f sia crescente (decrecente) su A è che risulti

$$f'(x) > 0 \text{ (} f'(x) < 0 \text{)} \forall x \in A \text{.} \text{»}$$

6 Dimostra che l'equazione

$$\ln x + \cos x + x = 0$$

ha un'unica soluzione reale. Determina un intervallo di ampiezza minore di $\frac{1}{2}$ che contenga la soluzione.

7 Quale fra i seguenti eventi ha probabilità maggiore?

- a) In tre lanci di uno stesso dado il 5 esca soltanto una volta.
- b) In un lancio di due dadi la somma delle facce sia 8.

I dadi non sono truccati e sono identici.

8 Considera le funzioni:

$$f(x) = \ln(\sqrt{x+1} + 1) + \ln(\sqrt{x+1} - 1), \quad g(x) = \ln x.$$

Discuti la verità della seguente affermazione:

«poiché $f'(x) = g'(x) = \frac{1}{x}$, per uno dei corollari del teorema di Lagrange le due funzioni differiscono per una costante».

Nel caso che sia vera calcola il valore della costante.

9 È data la seguente successione definita per ricorrenza:

$$a_1 = 1, \quad a_{n+1} = a_n + 3n - 1, \quad n \in \mathbb{N}.$$

a) Dimostra che è crescente.

b) Dimostra che $\forall n \in \mathbb{N} \quad a_n \geq n^2$.

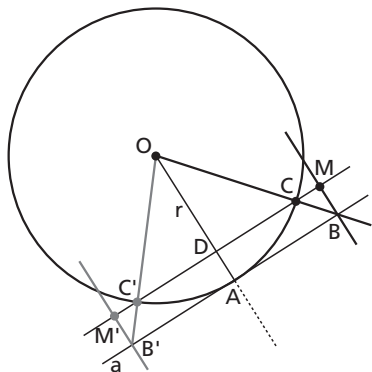
10 Data la funzione $f(x) = \frac{1}{x^2 + x + 1}$, $x \in \mathbb{R}$, determina una simmetria assiale e una traslazione del piano

che diano come immagine di f la funzione $g(x) = \frac{1}{x^2 - x + 1}$.

SOLUZIONE DELLA SIMULAZIONE D'ESAME CORSO SPERIMENTALE P.N.I.

PROBLEMA 1

1. Osserviamo la figura.



◀ Figura 1.

Il triangolo ODC è simile a OAB per costruzione; $\overline{OC} = \overline{OA}$, $\overline{DM} = \overline{AB}$ per costruzione; pertanto:

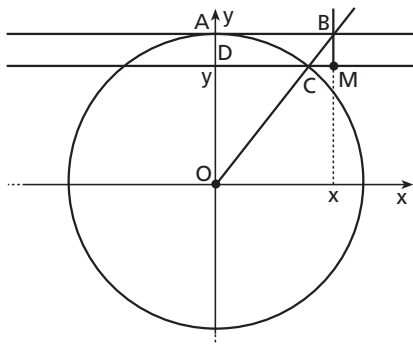
$$\overline{OD} : \overline{DC} = \overline{OA} : \overline{AB} \quad \rightarrow \quad \overline{OD} : \overline{DC} = \overline{OC} : \overline{DM}.$$

Il triangolo ODC è simile a BCM per costruzione; $\overline{OC} = \overline{OA}$, $\overline{DA} = \overline{MB}$ per costruzione; pertanto:

$$\overline{OC} : \overline{OD} = \overline{BC} : \overline{BM} \quad \rightarrow \quad \overline{OA} : \overline{OD} = \overline{BC} : \overline{DA}.$$

2. Nella simmetria assiale di asse OA le rette AB e DM sono globalmente invarianti, quindi la semiretta uscente da O e simmetrica alla semiretta OB incontra la retta AB in B' simmetrico di B e la retta DM in C' simmetrico di C . La parallela ad OA condotta per B' è pertanto simmetrica di BM , quindi interseca la retta DM nel punto M' simmetrico di M .

3. Posto il riferimento cartesiano ortogonale con origine nel centro della circonferenza e l'asse y passante per A orientato come la semiretta OA , indichiamo con $(x; y)$ le coordinate di M .



◀ Figura 2.

Scriviamo la proporzione $\overline{OD} : \overline{DC} = \overline{OC} : \overline{DM}$ utilizzando le coordinate:

$$y : \overline{DC} = r : x \quad \rightarrow \quad \overline{DC} = \frac{xy}{r}.$$

Applichiamo il teorema di Pitagora al triangolo rettangolo ODC :

$$\overline{DC}^2 + \overline{OD}^2 = \overline{OC}^2 \rightarrow \overline{DC}^2 + y^2 = r^2.$$

Sostituiamo a \overline{DC} la precedente espressione e riduciamo:

$$\frac{x^2 y^2}{r^2} + y^2 = r^2 \rightarrow y^2 = \frac{r^4}{x^2 + r^2} \rightarrow y = \frac{\pm r^2}{\sqrt{x^2 + r^2}}.$$

Accettiamo soltanto il segno positivo perché, per costruzione, la curva giace nel I e nel II quadrante (gli angoli $A\hat{O}B$ sono acuti), quindi:

$$f(x) = \frac{r^2}{\sqrt{x^2 + r^2}}.$$

4. Campo di esistenza: \mathbb{R} ; segno: $f(x) > 0 \forall x \in \mathbb{R}$; $f(0) = r$; $f(x)$ è: pari. La funzione è continua $\forall x \in \mathbb{R}$.
Asintoti:

$$\lim_{x \rightarrow \pm\infty} \frac{r^2}{\sqrt{x^2 + r^2}} = 0, \quad \text{l'asse delle ascisse è asintoto orizzontale.}$$

Derivata prima: $f'(x) = -\frac{r^2 x}{\sqrt{(x^2 + r^2)^3}}$. Pertanto:

$$x < 0 \rightarrow f'(x) > 0, \quad f(x) \text{ crescente};$$

$$x > 0 \rightarrow f'(x) < 0, \quad f(x) \text{ decrescente};$$

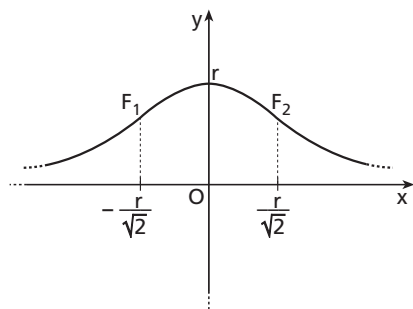
$$x = 0 \rightarrow f'(x) = 0, \quad \text{punto di massimo relativo e assoluto.}$$

Derivata seconda: $f''(x) = \frac{r^2(2x^2 - r^2)}{\sqrt{(x^2 + r^2)^5}}$. Pertanto:

$$-\frac{r}{\sqrt{2}} < x < \frac{r}{\sqrt{2}} \rightarrow f''(x) < 0, \quad \text{concavità verso il basso};$$

$$x < -\frac{r}{\sqrt{2}} \vee x > \frac{r}{\sqrt{2}} \rightarrow f''(x) > 0, \quad \text{concavità verso il basso};$$

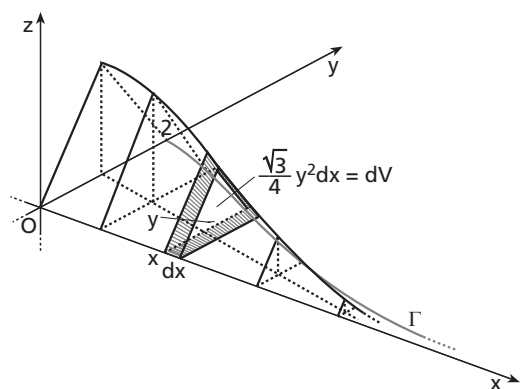
$$x = \pm \frac{r}{\sqrt{2}} \rightarrow f''(x) = 0, \quad \text{punti di flesso.}$$



◀ **Figura 3.**

5. Posto $r = 2$ la funzione assume l'espressione: $f(x) = \frac{4}{\sqrt{x^2 + 4}}$.

Per rappresentare il solido Ω utilizziamo un riferimento tridimensionale.



◀ Figura 4.

Consideriamo una generica sezione del solido di ascissa x e scriviamo l'espressione del corrispondente elemento infinitesimo di volume:

$$dV = \left(\frac{1}{2} y \frac{\sqrt{3}}{2} y \right) dx = \frac{\sqrt{3}}{4} y^2 dx = \frac{4\sqrt{3}}{x^2 + 4} dx.$$

Per determinare il volume di Ω calcoliamo l'integrale improprio:

$$\begin{aligned} \int_0^{+\infty} \frac{4\sqrt{3}}{x^2 + 4} dx &= 4\sqrt{3} \lim_{m \rightarrow +\infty} \int_0^m \frac{1}{x^2 + 4} dx = 4\sqrt{3} \lim_{m \rightarrow +\infty} \frac{1}{4} \int_0^m \frac{1}{1 + \left(\frac{x}{2}\right)^2} dx = \\ &= \sqrt{3} \lim_{m \rightarrow +\infty} \left[2 \operatorname{arctg} \frac{x}{2} \right]_0^m = 2\sqrt{3} \lim_{m \rightarrow +\infty} \left(\operatorname{arctg} \frac{m}{2} \right) = 2\sqrt{3} \frac{\pi}{2} = \pi\sqrt{3}. \end{aligned}$$

PROBLEMA 2

1. f è continua su \mathbb{R} quindi non ha asintoti verticali.

$$\lim_{x \rightarrow -\infty} (x + (1+x)e^{-2x}) = -\infty - \infty \cdot e^{+\infty} = -\infty \quad \text{e} \quad \lim_{x \rightarrow -\infty} \frac{f(x)}{x} = \left(1 + \frac{1+x}{x} e^{-2x} \right) = 1 + 1 \cdot e^{+\infty} = +\infty.$$

Pertanto f non ha asintoto orizzontale né obliquo per $x \rightarrow -\infty$.

$$\lim_{x \rightarrow +\infty} \left(x + \frac{1+x}{e^{2x}} \right) = +\infty + 0 = +\infty;$$

$$\lim_{x \rightarrow +\infty} \frac{f(x)}{x} = \left(1 + \frac{1+x}{x} \frac{1}{e^{2x}} \right) = 1 + 0 = 1, \quad \lim_{x \rightarrow +\infty} [f(x) - x] = \lim_{x \rightarrow +\infty} \left(\frac{1+x}{e^{2x}} \right) = 0.$$

Quindi la retta $y = x$ è asintoto obliquo per $x \rightarrow +\infty$.

Troviamo l'intersezione fra la f e l'asintoto:

$$\begin{cases} y = x + (1+x)e^{-2x} \\ y = x \end{cases} \rightarrow x + (1+x)e^{-2x} = x, \quad (1+x)e^{-2x} = 0 \rightarrow x = -1 \rightarrow A(-1; -1).$$

2. Dal comportamento per x tendente a $\pm\infty$ e dal teorema di esistenza degli zeri, deduciamo che f ha almeno un punto di intersezione con l'asse delle ascisse; per dimostrarne l'unicità studiamo la derivata prima: $f'(x) = 1 - (1 + 2x)e^{-2x}$.

$$f'(x) \geq 0 \Leftrightarrow 1 - (1 + 2x)e^{-2x} \geq 0 \rightarrow 1 - \frac{1 + 2x}{e^{2x}} \geq 0 \rightarrow \frac{e^{2x} - 2x - 1}{e^{2x}} \geq 0 \rightarrow e^{2x} - 2x - 1 \geq 0.$$

Per risolvere questa disequazione cerchiamo di capire l'andamento della funzione $u(x) = e^{2x} - 2x - 1$.

$$u'(x) = 2e^{2x} - 2 \text{ quindi:}$$

$$u'(x) < 0 \text{ per } x < 0 \rightarrow u(x) \text{ decrescente;}$$

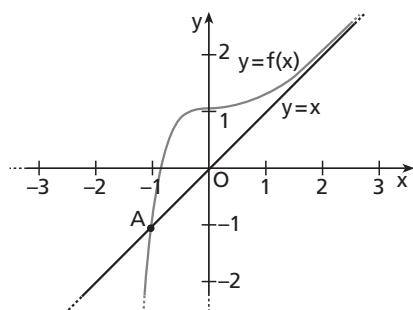
$$u'(x) > 0 \text{ per } x > 0 \rightarrow u(x) \text{ crescente}$$

$$u'(x) = 0 \text{ per } x = 0 \rightarrow (0; 0) \text{ min. rel. e ass.}$$

Pertanto $f'(x) = u(x)e^{-2x} \geq 0 \quad \forall x \in \mathbb{R}$ e $f'(x) = u(x)e^{-2x} = 0$ soltanto se $x = 0$; quindi la f è monotona crescente $\forall x \in \mathbb{R}$ e interseca una sola volta l'asse delle ascisse.

Completiamo lo studio di f con la derivata seconda.

$$f''(x) = 4xe^{-2x} \rightarrow \begin{array}{ll} \text{per } x < 0 & \text{la concavità è rivolta verso il basso;} \\ \text{per } x > 0 & \text{la concavità è rivolta verso l'alto;} \\ & \text{nel punto } (0; 1) \text{ flesso orizzontale.} \end{array}$$



◀ Figura 5.

Per determinare lo zero di f utilizziamo il metodo di bisezione. Nella tabella sono riportati i risultati di tre iterazioni a partire dall'intervallo $\left[-1; -\frac{1}{2}\right]$.

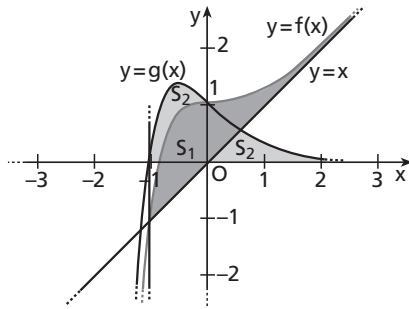
n	a	b	$f(a)$	$f(b)$	$(a + b)/2$	$f[(a + b)/2]$	errore
0	-1	-0,5	-1	0,859141	-0,75	0,370422	0,25
1	-1	-0,75	-1	0,370422	-0,875	-0,15567	0,125
2	-0,875	-0,75	-0,15567	0,370422	-0,8125	0,139704	0,0625
3	-0,875	-0,8125	-0,15567	0,139704	-0,84375	0,00093	0,03125

Pertanto $-0,84375$ è un valore approssimato dello zero di f con un'approssimazione di $0,03125$.

3. L'area S_1 , evidenziata nel grafico, si calcola con il seguente integrale improprio:

$$S_1 = \int_{-1}^{+\infty} (f(x) - x) dx = \int_{-1}^{+\infty} (x + (1 + x)e^{-2x} - x) dx = \int_{-1}^{+\infty} (1 + x)e^{-2x} dx = \int_{-1}^{+\infty} g(x) dx = S_2.$$

Osserviamo dunque che le aree S_1 e S_2 sono uguali.



◀ Figura 6.

$$\begin{aligned} \int_{-1}^{+\infty} (1+x)e^{-2x} dx &= \lim_{k \rightarrow +\infty} \int_{-1}^k (1+x)e^{-2x} dx = \lim_{k \rightarrow +\infty} \left\{ \left[-\frac{1+x}{2} e^{-2x} \right]_{-1}^k - \left(-\frac{1}{2} \right) \int_{-1}^k e^{-2x} dx \right\} = \\ &= \lim_{k \rightarrow +\infty} \left\{ \left[-\frac{1+k}{2} e^{-2k} - 0 \right] + \frac{1}{2} \left[-\frac{1}{2} e^{-2x} \right]_{-1}^k \right\} = \lim_{k \rightarrow +\infty} \left\{ -\frac{1+k}{2} e^{-2k} - \frac{1}{4} [e^{-2k} - e^2] \right\} = \frac{e^2}{4}. \end{aligned}$$

4. Considerata la generica traslazione del piano

$$\tau: (x; y) \rightarrow (x'; y') = (x+a; y+b),$$

si tratta di determinare a e b . A questo scopo applichiamo la trasformazione all'espressione $y = g(x)$:

$$\begin{cases} x' = x+a \\ y' = y+b \\ y = (1+x)e^{-2x} \end{cases} \rightarrow \begin{cases} x = x' - a \\ y = y' - b \\ y' - b = (1+(x'-a))e^{-2(x'-a)} \end{cases}, \begin{cases} \dots \\ \dots \\ y' = (1+x'-a)e^{-2(x'-a)} + b \end{cases}.$$

La terza espressione deve coincidere, $\forall x \in \mathbb{R}$, con g_1 . Riscriviamo nella seguente forma g_1 :

$$y' = g_1(x') = e^2 \frac{x'}{e^{2x'}} = x' e^{-2(x'-1)}.$$

Le due espressioni di y' coincidono soltanto se:

$$(1+x'-a)e^{-2(x'-a)} + b = x' e^{-2(x'-1)} \quad \forall x' \in \mathbb{R}, \text{ quindi soltanto se}$$

$$\begin{cases} 1+x'-a = x' \\ x'-a = x'-1 \\ b=0 \end{cases}, \begin{cases} a=1 \\ b=0 \end{cases}.$$

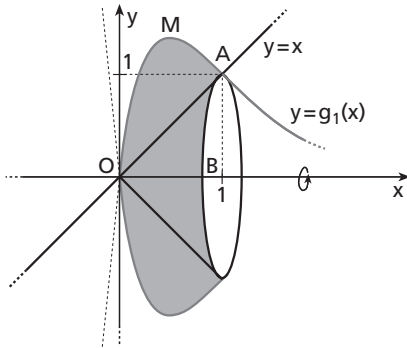
5. Utilizzando i limiti all'infinito e le derivate prima e seconda disegniamo il grafico sommario di g_1 mettendo in evidenza le intersezioni con la retta $y = x$.

$$\lim_{x \rightarrow -\infty} x e^{-2(x-1)} = -\infty, \quad \lim_{x \rightarrow +\infty} x e^{-2(x-1)} = 0;$$

$$g_1'(x) = (1-2x)e^{-2(x-1)}, \quad g_1''(x) = 4(x-1)e^{-2(x-1)};$$

$$x e^{-2(x-1)} = x \rightarrow O(0;0), A(1;1).$$

Il volume richiesto V si ottiene sottraendo al solido generato dalla rotazione dell'arco di curva \widehat{OMA} il cono di vertice O e apotema \overline{OA} .



◀ Figura 7.

$$\begin{aligned} V_{OMA} &= \int_0^1 \pi [g_1(x)]^2 dx = \pi \int_0^1 x^2 e^{-4(x-1)} dx = \pi \left\{ \left[-\frac{x^2 e^{-4(x-1)}}{4} \right]_0^1 - \left(-\frac{1}{4} \right) \int_0^1 2x e^{-4(x-1)} dx \right\} = \\ &= -\frac{\pi}{4} + \frac{\pi}{2} \left\{ \left[-\frac{x e^{-4(x-1)}}{4} \right]_0^1 - \left(-\frac{1}{4} \right) \int_0^1 e^{-4(x-1)} dx \right\} = -\frac{\pi}{4} - \frac{\pi}{8} + \frac{\pi}{8} \left[-\frac{e^{-4(x-1)}}{4} \right]_0^1 = \\ &= -\frac{3\pi}{8} - \frac{\pi}{32} (1 - e^4) = \pi \frac{e^4 - 13}{32}. \end{aligned}$$

$$V_{cono} = \frac{1}{3} \pi \overline{BA}^2 \cdot \overline{OB} = \frac{1}{3} \pi \cdot 1^2 \cdot 1^2 = \frac{1}{3} \pi.$$

$$V = V_{OMA} - V_{cono} = \pi \frac{e^4 - 13}{32} - \frac{1}{3} \pi = \pi \frac{e^4}{32} - \pi \frac{71}{96}.$$

■ QUESTIONARIO

1 Fissato un ordine di disposizione dei giocatori il numero delle distribuzioni al primo giocatore è dato dalle combinazioni semplici delle 40 carte prese a 10 a 10, ossia $\binom{40}{10}$; quello del secondo dalle combinazioni delle rimanenti 30 carte prese a 10 a 10, quindi $\binom{30}{10}$; per il terzo e il quarto le corrispondenti distribuzioni sono $\binom{20}{10}$ e $\binom{10}{10} = 1$. In totale:

$$\binom{40}{10} \cdot \binom{30}{10} \cdot \binom{20}{10}.$$

I quattro giocatori si possono disporre in $4!$ modi diversi quindi, nel secondo caso, i modi possibili di distribuzione delle 40 carte sono:

$$4! \cdot \binom{40}{10} \cdot \binom{30}{10} \cdot \binom{20}{10}.$$

2 Se in 14,3 giorni il numero di nuclei rimasti in vita è dimezzato significa che la probabilità per un nucleo di essere ancora in vita dopo tale intervallo è $\frac{1}{2}$; pertanto:

$$\int_0^{14,3} \lambda e^{-\lambda z} dz = \frac{1}{2}. \quad \text{Calcoliamo l'integrale:}$$

$$\int_0^{14,3} \lambda e^{-\lambda z} dz = \lambda \left[-\frac{1}{\lambda} e^{-\lambda z} \right]_0^{14,3} = -e^{-\lambda \cdot 14,3} + 1 \rightarrow$$

$$1 - e^{-\lambda \cdot 14,3} = \frac{1}{2}, \quad e^{-\lambda \cdot 14,3} = \frac{1}{2}, \quad e^{\lambda \cdot 14,3} = 2 \quad \rightarrow \quad \lambda = \frac{\ln 2}{14,3} \quad \text{c.v.d.}$$

La probabilità per un nucleo di avere una durata di vita superiore a 20 giorni si ottiene sottraendo da 1 la probabilità dell'evento complementare, che è il decadimento entro 20 giorni:

$$1 - p(0; 20) = 1 - \int_0^{20} \lambda e^{-\lambda z} dz = 1 - (1 - e^{-20\lambda}) = e^{-\frac{20}{14,3} \ln 2} \approx 0,379 \dots$$

Possiamo anche calcolare direttamente la probabilità richiesta mediante il seguente integrale improprio:

$$p(20; +\infty) = \int_{20}^{+\infty} \lambda e^{-\lambda z} dz = \dots = \lim_{t \rightarrow +\infty} [-e^{-\lambda t} + e^{-\lambda \cdot 20}] = e^{-\frac{20}{14,3} \ln 2}.$$

Il risultato ottenuto è uguale a quello precedente.

3 La funzione valore assoluto per definizione è non negativa quindi l'equazione è equivalente al sistema:

$$\begin{cases} x > 0 \\ \ln x - 1 = 0, \text{ dove abbiamo esplicitato anche il campo di esistenza del logaritmo.} \\ e^x + k = 0 \end{cases}$$

Risolvendo otteniamo:

$$\begin{cases} x = e \\ e^e + k = 0 \end{cases} \rightarrow k = -e^e.$$

La risposta corretta è e).

4 Il sistema ha 3 equazioni e 3 incognite quindi per la regola di Cramer è *determinato* soltanto se il determinante dei coefficienti è diverso da 0:

$$\begin{vmatrix} 1 & -\lambda & -1 \\ 2 & \lambda + 1 & 1 \\ -\lambda & 1 & \lambda \end{vmatrix} \neq 0 \quad \rightarrow \quad 3\lambda^2 - 3 \neq 0, \quad \lambda \neq \pm 1$$

Se $\lambda = -1$ otteniamo il seguente sistema particolare:

$$\begin{cases} x + y - z = -2 \\ 2x + z = 0 \\ x + y - z = 2 \end{cases}.$$

Riconosciamo immediatamente che il sistema ottenuto è *impossibile* perché la prima e la terza equazione sono incompatibili (la medesima espressione è uguagliata a due numeri diversi). Del resto confrontando la matrice incompleta con quella completa vediamo che hanno caratteristica diversa:

$$M_i = \begin{bmatrix} 1 & 1 & -1 \\ 2 & 0 & 1 \\ 1 & 1 & -1 \end{bmatrix}, \quad c_i = 2; \quad M_s = \begin{bmatrix} 1 & 1 & -1 & -2 \\ 2 & 0 & 1 & 0 \\ 1 & 1 & -1 & 2 \end{bmatrix}, \quad c_s = 3;$$

poiché $c_i < c_s$, per il teorema di Rouché-Capelli il sistema è *impossibile*.
Se $\lambda = 1$ otteniamo un altro sistema particolare:

$$\begin{cases} x - y - z = 0 \\ 2x + 2y + z = 0 \\ -x + y + z = 0 \end{cases} \rightarrow \begin{cases} x - y - z = 0 \\ 2x + 2y + z = 0 \end{cases}.$$

Il sistema ha 2 equazioni e 3 incognite; la matrice incompleta e quella completa hanno caratteristica 2 (la matrice completa ha una colonna in più con tutti gli elementi nulli). Per il teorema di Rouché-Capelli il sistema è indeterminato con ∞^1 soluzioni che possiamo esprimere attribuendo a x un qualsiasi valore reale:

$$\begin{cases} x = k \\ y = -3k, \quad k \in \mathbb{R}. \\ z = 4k \end{cases}$$

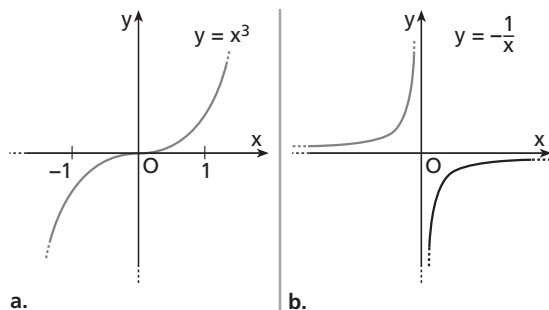
5 Una funzione $f: A \rightarrow \mathbb{R}$ si dice crescente su A se $f(x_1) < f(x_2) \forall x_1, x_2 \in A$ con $x_1 < x_2$.

La funzione f , derivabile in A , può essere crescente su A e avere derivata nulla in qualche punto. Per esempio la funzione $f(x) = x^3$, $x \in [-1; 1]$, è crescente sull'intervallo $[-1; 1]$ ma $f'(0) = 0$. Pertanto la condizione $f'(x) > 0 \forall x \in A$ non è necessaria.

Se la derivata di f è positiva $\forall x \in A$ può tuttavia accadere che $f(x_1) > f(x_2)$ per qualche $x_1, x_2 \in A$, $x_1 < x_2$.

Per esempio la funzione $f(x) = -\frac{1}{x}$, $x \in (\mathbb{R} - \{0\})$, è derivabile in tutto il dominio però $f(-1) > f(1)$ pur essendo $-1 < 1$. Questa funzione è crescente nei due sottoinsiemi disgiunti \mathbb{R}^- ed \mathbb{R}^+ ma non su $(\mathbb{R} - \{0\})$. Pertanto la condizione $f'(x) > 0 \forall x \in A$ non è sufficiente.

La proposizione è dunque falsa.



◀ **Figura 8.**

6 Poniamo $f(x) = \ln x + \cos x + x$. La funzione così definita ha per dominio \mathbb{R}^+ ed è continua e derivabile $\forall x \in \mathbb{R}^+$. Poiché

$$\lim_{x \rightarrow 0^+} f(x) = -\infty \quad \text{e} \quad \lim_{x \rightarrow +\infty} f(x) = +\infty,$$

esiste almeno un intervallo $[a; b] \subset \mathbb{R}^+$ per cui $f(a) < 0$ e $f(b) > 0$; pertanto per il teorema di esistenza degli zeri esiste almeno un $x_0 \in]a; b[$ tale che $f(x_0) = 0$.

Determiniamo la derivata prima:

$$f'(x) = \frac{1}{x} - \operatorname{sen} x + 1.$$

Poiché $\frac{1}{x} > 0 \wedge (1 - \operatorname{sen} x) \geq 0 \quad \forall x \in \mathbb{R}^+$, allora $f'(x) > 0 \quad \forall x \in \mathbb{R}^+$ e la funzione è monotona crescente.

Dunque la funzione si annulla una volta soltanto e l'equazione data ha un'unica soluzione.

L'intervallo $\left[\frac{1}{4}; \frac{1}{2}\right]$ soddisfa le condizioni richieste; infatti:

$$\text{L'ampiezza è } \frac{1}{2} - \frac{1}{4} = \frac{1}{4} < \frac{1}{2}, \quad f\left(\frac{1}{4}\right) < 0, \quad f\left(\frac{1}{2}\right) > 0.$$

7 a) I casi favorevoli corrispondono alle seguenti uscite:

- esce 5 nel 1° lancio, esce un numero diverso da 5 negli altri due;
- esce 5 nel 2° lancio, esce un numero diverso da 5 negli altri due;
- esce 5 nel 3° lancio, esce un numero diverso da 5 negli altri due.

Le tre uscite sono equiprobabili e la probabilità di ciascuna di esse corrisponde al prodotto logico degli eventi che la compongono:

$$p(5; \neg 5; \neg 5) = p(\neg 5; 5; \neg 5) = p(\neg 5; \neg 5; 5) = p(5) \cdot p(\neg 5) \cdot p(\neg 5) = \frac{1}{6} \cdot \frac{5}{6} \cdot \frac{5}{6} = \frac{25}{216}.$$

Poiché ogni uscita esclude le altre, la probabilità di averne una qualsiasi si calcola con la somma delle probabilità dei tre eventi incompatibili:

$$p_{tot} = 3p(5; \neg 5; \neg 5) = 3 \cdot \frac{25}{216} = \frac{25}{72}.$$

Si può anche procedere calcolando i casi possibili e quelli favorevoli.

I casi possibili sono tutte le terne ottenibili dai tre lanci, ovvero le disposizioni con ripetizione di 6 elementi presi a 3 a 3: $D'_{6,3} = 6^3$.

I casi favorevoli sono tutte le terne del tipo $(5; \neg 5; \neg 5)$, $(\neg 5; 5; \neg 5)$, $(\neg 5; \neg 5; 5)$ ovvero il triplo delle disposizioni con ripetizione di 5 elementi (i numeri 1, 2, 3, 4, 6) presi a 2 a 2: $3D'_{5,2} = 3 \cdot 5^2$.

La probabilità dell'evento è dunque:

$$p_a = \frac{3D'_{5,2}}{3D'_{6,3}} = \frac{3 \cdot 5^2}{6^3} = \frac{25}{72}.$$

b) La somma 8 si può ottenere nei seguenti 5 modi:

$$2 + 6, 3 + 5, 4 + 4, 5 + 3, 6 + 2.$$

I possibili esiti del lancio di due dadi sono le disposizioni con ripetizione di 6 elementi presi a 2 a 2: $D'_{6,2} = 6^2$. La probabilità dell'evento è dunque:

$$p_b = \frac{5}{D'_{6,2}} = \frac{5}{6^2} = \frac{5}{36}.$$

Poiché $\frac{25}{72} > \frac{5}{36}$ l'evento con probabilità maggiore è il primo.

8 Troviamo il dominio di f :

$$\begin{cases} x+1 \geq 0 \\ \sqrt{x+1} + 1 > 0 \rightarrow x > 0. \\ \sqrt{x+1} - 1 > 0 \end{cases}$$

Dunque le funzioni hanno entrambe come dominio \mathbb{R}^+ e, in esso, sono la stessa funzione:

$$\ln(\sqrt{x+1} + 1) + \ln(\sqrt{x+1} - 1) = \ln[(\sqrt{x+1} + 1) \cdot (\sqrt{x+1} - 1)] = \ln(x+1-1) = \ln x.$$

La costante è ovviamente zero.

Osserviamo che il corollario del teorema di Lagrange non è applicabile a tutto il dominio in quanto è un intervallo aperto ma si può applicare ad ogni intervallo $[a, b] \subset \mathbb{R}^+$.

9 Determiniamo i primi elementi della successione:

n	1	2	3	4	5
a_n	1	3	8	16	27

a) $a_{n+1} - a_n = 3n - 1 > 0 \quad \forall n \in \mathbb{N}$, dunque la successione è crescente.

b) Dimostriamo per induzione.

$P(1) = \langle a_1 \geq 1^2 \rangle$ è vera perché $1 = 1^2$.

Per $n > 1$, supposta vera $P(n) = \langle a_n \geq n^2 \rangle$, abbiamo:

$$a_{n+1} = a_n + 3n - 1 \geq n^2 + 3n - 1 = n^2 + 2n + 1 - 1 + n - 1 = (n+1)^2 + n - 2 \geq (n+1)^2;$$

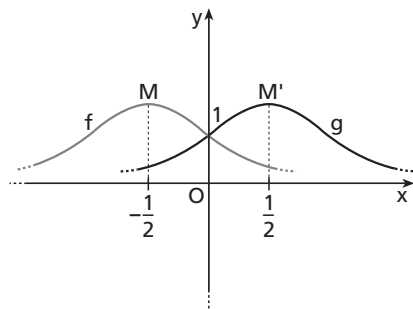
dunque $P(n+1)$ risulta vera e la tesi è dimostrata.

10 Eseguiamo uno studio sommario delle due funzioni.

L'asse x è asintoto orizzontale per entrambe le funzioni. Inoltre:

$$f'(x) = -\frac{2x+1}{(x^2+x+1)^2}, \quad g'(x) = -\frac{2x-1}{(x^2-x+1)^2}.$$

Ora tracciamo il grafico approssimato.



◀ **Figura 9.**

Con l'aiuto del grafico riconosciamo che la simmetria assiale che trasforma la funzione f nella g è quella rispetto all'asse y :

$$\sigma : (x; y) \rightarrow (x'; y') = (-x; y) \rightarrow y = \frac{1}{(-x)^2 + (-x) + 1} = \frac{1}{x^2 - x + 1}.$$

Sempre con l'osservazione del grafico vediamo che la traslazione cercata può essere individuata mediante il vettore \vec{MM}' , dove M è il punto di massimo della f ; M' quello di g .

$$f'(x) = 0 \rightarrow x = -\frac{1}{2}; \quad g'(x) = 0 \rightarrow x = \frac{1}{2}.$$

Il vettore di traslazione e le corrispondenti equazioni sono:

$$\vec{MM}' = (1; 0), \quad \tau: \begin{cases} x' = x + 1 \\ y' = y \end{cases}.$$

Si può procedere anche partendo direttamente dalla traslazione:

$$\tau: \begin{cases} x' = x + a \\ y' = y + b \end{cases}, \quad \begin{cases} x = x' - a \\ y = y' - b \end{cases}.$$

Sostituiamo nell'espressione della f e confrontiamo l'espressione ottenuta con quella della g :

$$f \rightarrow y' - b = \frac{1}{(x' - a)^2 + (x' - a) + 1}, \quad g \rightarrow y' = \frac{1}{x'^2 - x' + 1}.$$

Le due espressioni coincidono se:

$$\begin{cases} (x' - a)^2 + (x' - a) + 1 = x'^2 - x' + 1 \\ y' - b = y' \end{cases} \rightarrow \begin{cases} (x'^2 + (-2a + 1)x' + a^2 - a = x'^2 - x' \\ b = 0 \end{cases}$$

$$\begin{cases} -2a + 1 = -1 \\ a^2 - a = 0 \\ b = 0 \end{cases} \rightarrow \begin{cases} a = 1 \\ b = 0 \end{cases}.$$

Per esercitarti ancora sugli argomenti trattati nel	Svolgi il
Problema 1	<ul style="list-style-type: none"> • Problema 1-a)-b) pag. W 172 • Esercizio 283 pag. W 125 • Quesito 9 pag. W 175 • Problema 74 pag. L 372
Problema 2	<ul style="list-style-type: none"> • Problema 19 pag. W 138 • Problema 1 pag. W 162 • Problema 1 pag. W 170 • Problema 1-c) pag. W 176 • Quesito 12 pag. J₁ 120
Quesito 1	<ul style="list-style-type: none"> • Quesito 6 pag. W 175
Quesito 2	<ul style="list-style-type: none"> • Quesito 9 pag. W 175 • Problema 1-c)-d)-e) pag. W 172
Quesito 3	<ul style="list-style-type: none"> • Esercizio 466 pag. N 70 • Esercizio 471 pag. N 70
Quesito 4	<ul style="list-style-type: none"> • Esercizio 27 pag. W 184
Quesito 5	<ul style="list-style-type: none"> • Quesito 1 pag. V 288
Quesito 6	<ul style="list-style-type: none"> • Quesito 6 pag. V 136 • Problema 1-c) pag. W 176
Quesito 7	<ul style="list-style-type: none"> • Quesito 9 pag. W 177
Quesito 8	<ul style="list-style-type: none"> • Quesito 4 pag. V 282
Quesito 9	<ul style="list-style-type: none"> • Esercizio 205 pag. S 158 • Esercizio 215 pag. S 159
Quesito 10	<ul style="list-style-type: none"> • Quesito 3 pag. W 171